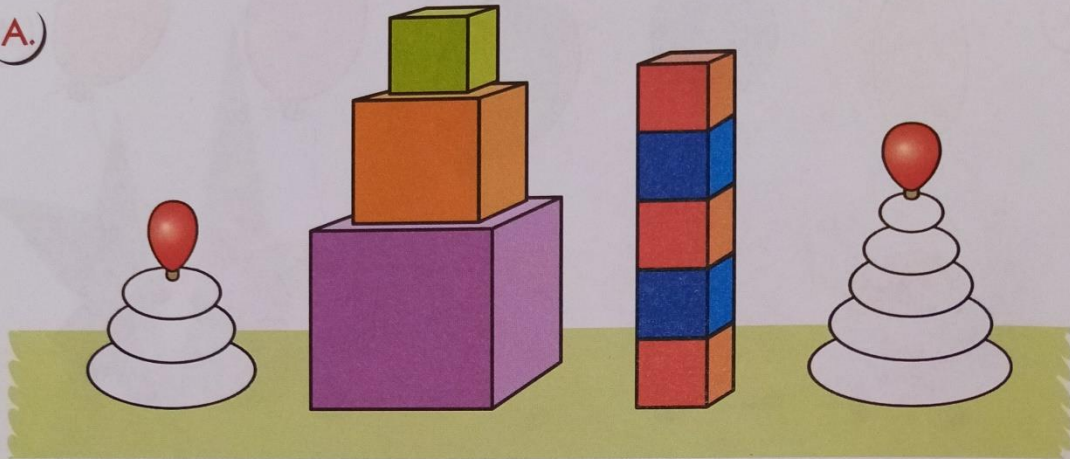



# Математика

Тема: **Квадрат — прямоугольник**

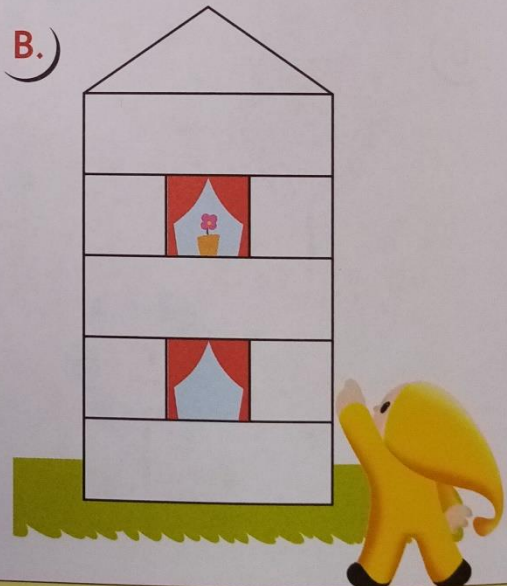
А.)



Б.)



В.)



10

- А.** Из скольких кубиков построена большая (маленькая) башенка? Где кубиков больше? Сколько колец в большой пирамидке? Сколько в маленькой? Где колец больше? Раскрасьте кольца пирамидок в те же цвета, что и кубики башенок, стоящих рядом.
- Б.** Назовите фигуры. Объясните Гномику, чем прямоугольник отличается от квадрата.
- В.** В этом доме живут Желтый и Зеленый гномики. Раскрасьте прямоугольные детали домика в синий цвет, квадратные — в желтый, а треугольную — в красный. Кто на каком этаже живет, если известно, что Зеленый гномик живет выше Желтого?