

Веселый счет







1-е задание. ВАРЕЖКИ

Посмотри внимательно на картинку. Найди варежки, принадлежащие зайцу, лисе, белке, коту. Кто из зверят потерял варежку?

Сколько лишних пар варежек осталось? Раскрась картинку.

2-е задание. НОВОГОДНЯЯ ЁЛКА

Обведи по точкам недорисованные детали.



3-е задание. ЧУДО-ДЕРЕВО

Что растёт на чудо-дереве?
Каких предметов больше
на этом дереве, а каких меньше?
На сколько сапог больше,
чем шляп? Сосчитай все
предметы. Обведи по точкам
недорисованные детали.



4-е задание. БУКЕТ

Подумай, в какой последовательности расставить картинки.
Впиши в квадратики порядковые номера.



5-е задание. ТРУДОЛЮБИВЫЙ МЕДВЕЖОНОК

Трудолюбивый медвежонок ухаживает за кустиком земляники и ждёт, когда все ягоды созреют. В первый день на кустике было 10 цветочков, потом стали появляться ягоды. Каждый день Мишка подсчитывал цветочки. А ты, решив примеры, выясни, сколько было ягод.



1-й день



2-й день



3-й день



$$5 + \square = 10$$

$$6 + \square = 10$$

4-й день



5-й день



6-й день



7-й день



$$7 + \square = 10$$

$$8 + \square = 10$$

$$9 + \square = 10$$

$$10 + \square = 10$$

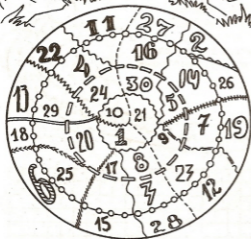
Когда все ягоды созрели, Мишка дал 5 из них Лисёнку. Сколько ягод съел Мишка?

$$10 - 5 = \square$$



8-е задание. ЗАДУМАННОЕ ЧИСЛО (устный счёт)

Сова задумала число, и назвала его Петуху. Петух прибавил к этому числу 3 и полученную сумму шепнул Гусю. Гусь отнял от этой суммы 5 и получил 15. Какое число задумала сова?



9-е задание. ЦИФРЫ ПО ПОРЯДКУ


Найди цифры по порядку:

- 1) от 1 до 15
- 2) от 15 до 1
- 3) от 1 до 30
- 4) от 30 до 15
- 5) от 30 до 1

Как у нашего соседа
Весела была беседа:
Гуси — в гусли,
Утки — в дудки,
Овцы — в донцы,
Тараканы — в барабаны.




Сколько всего было музыкальных инструментов,
если гусей было 3, уток — 4, овец — 2, тараканов — 5?




11-е задание. СЧАСТЛИВАЯ ЛОТЕРЕЯ

Зверята выиграли призы по лотерейным билетикам.
Определи, какой приз получит каждый из них?



1. Белка с каждой ёлки собирает одинаковое количество шишек. Сколько шишек белка собрала с трёх ёлок? Сколько — с пяти?



2. Ёж у каждого пенька находит одинаковое количество грибов. Сколько грибов он нашёл, обойдя 3 пенька? 5 пеньков?



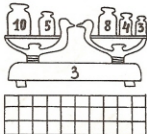
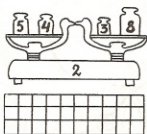
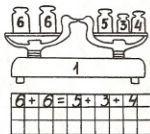
13-е задание. РАДУГА

Художник решил нарисовать радугу, но у него было только 3 краски: красная, жёлтая и синяя. Он смешивал каждый раз по 2 краски из тех, что у него были, и получил ещё несколько красок. Посмотри на схему слева и скажи, сколько красок получил художник? Хватит ли ему красок, чтоб изобразить радугу? Возьми красную, жёлтую и синюю краски и попробуй повторить опыт художника.



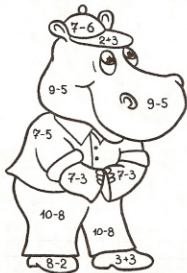


16-е задание. СЛОМАННЫЕ ВЕСЫ

На картинках все весы уравновешены, то есть вес гирек на правых чашах должен быть равен весу гирек на левых чашах.



17-е задание. ВЗВЕСЬ КУРИЦУ

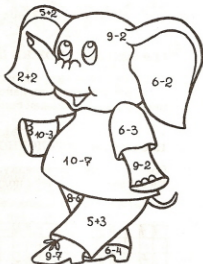
Посмотри на картинку, и подсчитай, сколько весит курица?




18-е задание. БЕГЕМОТ И СЛОН

Реши примеры и раскрась картинку.

- 1 — красный
- 2 — синий
- 3 — жёлтый
- 4 — розовый
- 5 — зелёный
- 6 — коричневый
- 7 — серый
- 8 — фиолетовый





20-е задание. КРУГИ

Отыщи все пустые круги по порядку:

1. От самого большого до самого маленького.
 2. От самого маленького до самого большого.
- Сколько всего пустых кругов?

21-е задание. ПОЛЕ ЧУДЕС


У лисы Алисы и кота Базилио было 5 золотых. Они пошли на поле чудес и закопали золотые в ямках, по 1-й монете в каждой. Потом сделали ещё несколько ложных ямок. В каждую ямку они воткнули табличку с примером.

Найди примеры с одинаковыми ответами, и ты догадаешься, где зарыты золотые.



22-е задание. СЛОН С ПОКУПКАМИ

У слона была монетка в 30 золотых. Он купил картину, чайник, ананас и шляпу (цены указаны на ценниках). Сколько сдачи дали слону?



ОТВЕТЫ

- 1-е задание. Варежку потерял заяц. Остались 3 лишних пары варежек.
3-е задание. На чудо-дереве больше всего яблок, меньше всего — шляп.
Сапог на 2 штуки больше, чем шляп.
4-е задание.



- 5-е задание. Мишка съел 5 ягод.
6-е задание. Клад спрятан под камнями.
7-е задание. «6»
8-е задание. «17» — число, задуманное совой.
10-е задание. Всего было 14 музыкальных инструментов.
11-е задание. Попугай получит вазу, тигрёнок — мяч, черепаха — часы, слон — телевизор.
12-е задание. 1) 3; 6; 9; 12; 15; 18.
2) 4; 8; 12; 16; 20.
13-е задание. Художник получил ещё 3 краски: оранжевую, зелёную и фиолетовую. Для радуги не хватило 1-й краски (голубой).
14-е задание. 12 сапожек сшил ёж.
15-е задание. Собака.
16-е задание. Вторые весы «врут».
17-е задание. Курица весит 5 кг.
19-е задание. Ворона сидит на 16 ступеньке.
20-е задание. 10 пустых кругов.
21-е задание. Золотые зарыты под табличками с ответом 5.
22-е задание. Слону дали сдачу 6 золотых.