


# Пространство

## ТЕСТ 3.3

1. Что находится **слева** от кубика? Напиши.



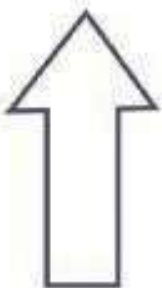
---

2. Кто стоит **справа** от мальчика? Напиши.

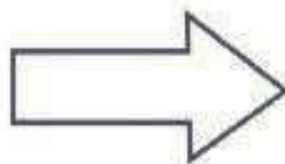


---


3. Какая стрелка указывает **направо**? Подчеркни цифру правильного ответа.



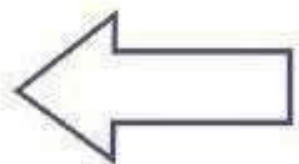
1



2



3



4

## Пространство

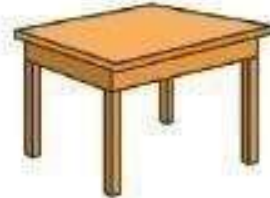
4. Какой предмет находится **справа** от стула? Подчеркни цифру правильного ответа.



1

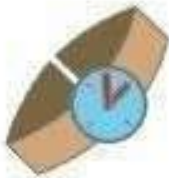


2



3

5. Какой предмет находится **слева** от девочки? Подчеркни цифру правильного ответа.



1

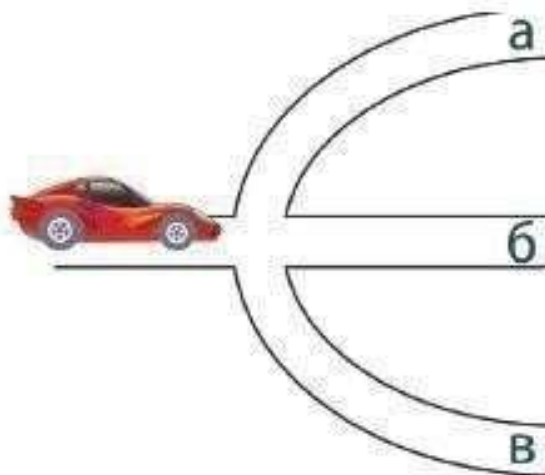


2



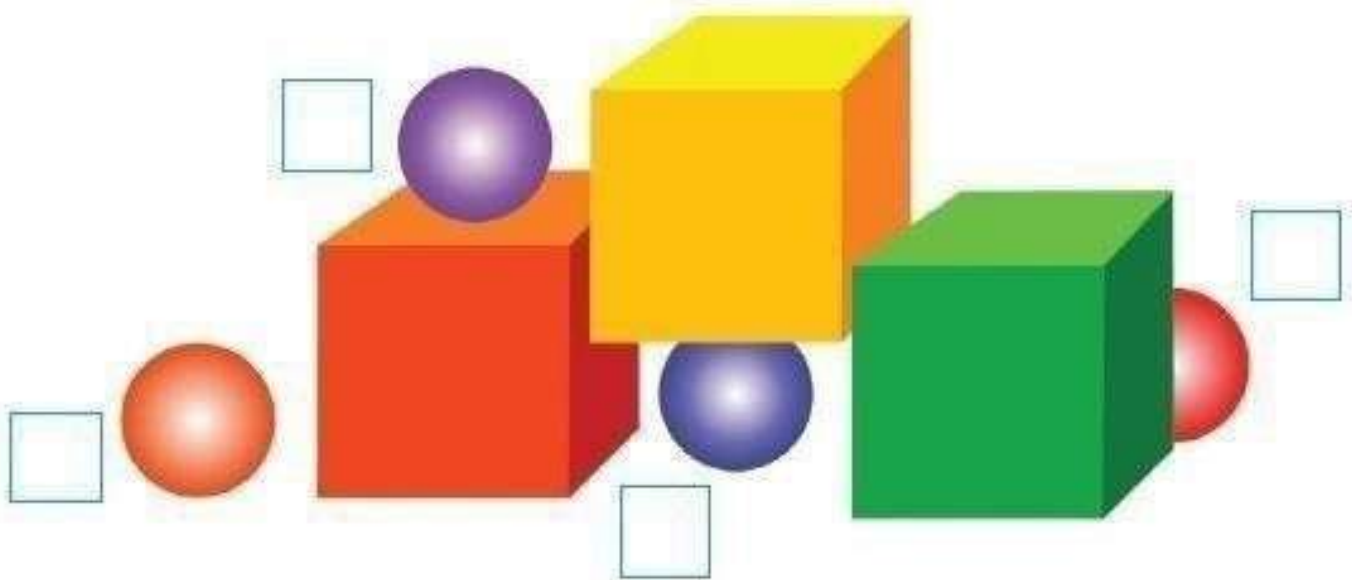
3

6. Машина должна поехать **налево**. Отметь нужный путь. Обведи в кружок  букву правильного ответа.



## Пространство

**3.** Внимательно рассмотри рисунок. Выполни задания.



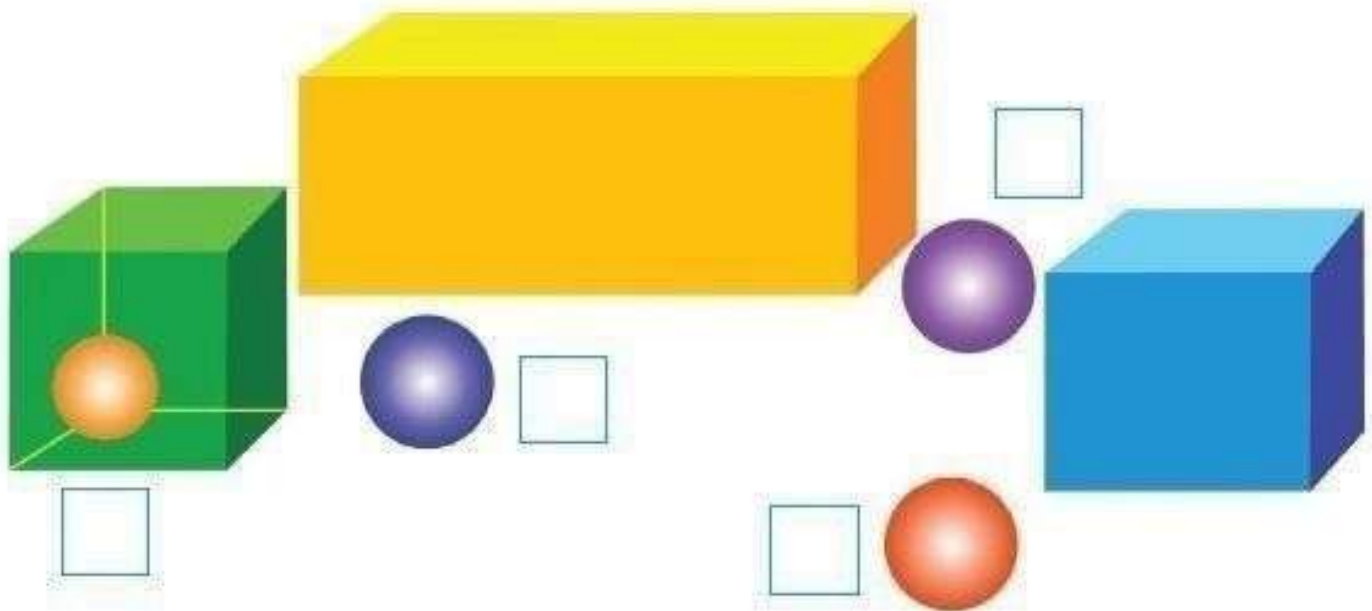
1) Найди и отметь:

- \* цифрой 1 шар, который находится **на** коробке;
- \* цифрой 2 шар, который находится **у** коробки;
- \* цифрой 3 шар, который находится **под** коробкой;
- \* цифрой 4 шар, который находится **за** коробкой.

2) Отметь крестиком **X** тот шар, который находится **слева** от коробок.

## Расположение в пространстве

4. Внимательно рассмотри рисунок. Выполни задания.



1) Найди и отметь:


- \* цифрой 1 шар, который находится **между** коробками;
- \* цифрой 2 шар, который находится **внутри** коробки;
- \* цифрой 3 шар, который находится **недалеко** от коробки.
- \* цифрой 4 шар, который находится **перед** коробкой.

2) Соедини линией шары, которые находятся **напротив друг друга**.

## Пространство

### ТЕСТ 3.4


1. Выбери дерево, посаженное **раньше** других. Подчеркни цифру правильного ответа.




1



2



3



4

2. Какая морская звезда появилась на свет **позже** остальных? Подчеркни цифру правильного ответа.



1



2



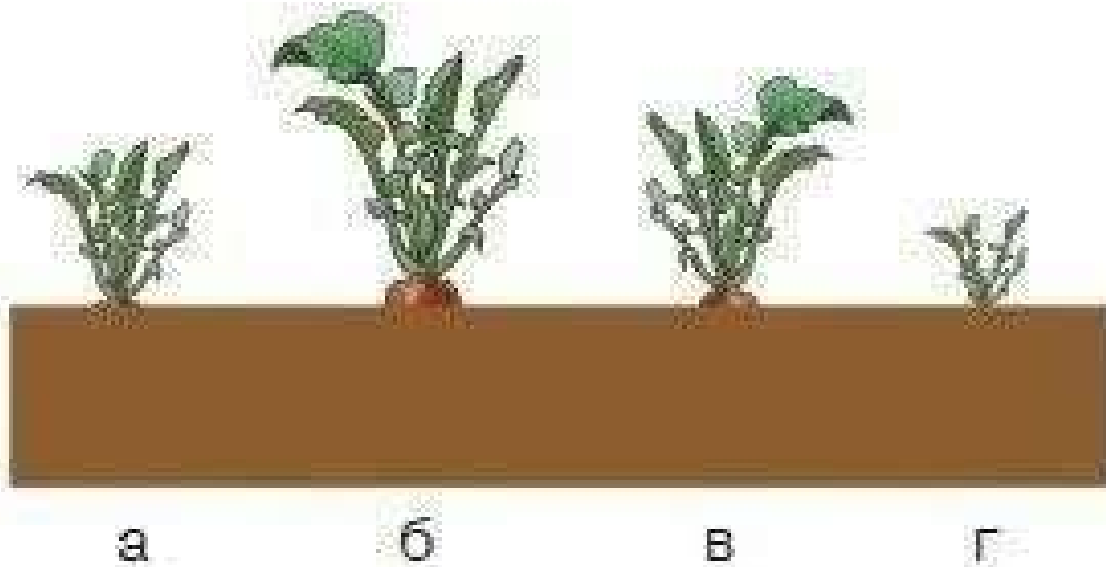
3




4

## Пространство

3. Выбери редиску, посаженную **раньше** других. Подчеркни букву правильного ответа.

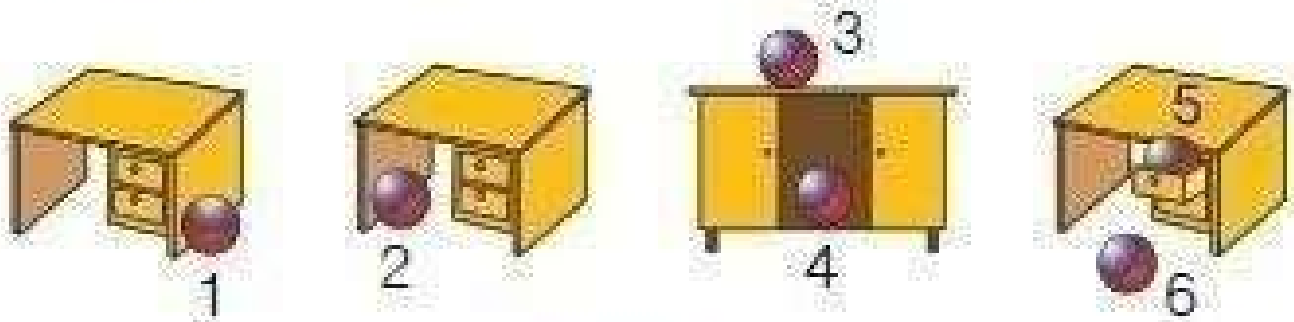


4. На какой картинке цветок посажен **позже** других? Подчеркни цифру правильного ответа.



ТЕСТ 3.5

1. Выполни задания.



- 1) Обведи рамкой  мяч, который находится на столе.
- 2) Отметь галочкой  мяч, который находится под столом.
- 3) Обведи кружком  мячик, который находится рядом со столом.
- 4) Зачеркни крестиком мяч, который лежит внутри стола.
- 5) Какой мяч находится в ящике стола? Напиши его номер:
- 6) Про какой мяч можно сказать, что он лежит около стола? Напиши его номер:
- 7) Какой мяч лежит перед столом? Напиши его номер:

## Расположение в пространстве

2. Заполни клеточки нужными буквами, чтобы получилось правильно, например:

где? в дом

ГДЕ?

КУДА?

В ДОМ

К ДОМ

У ДОМ

ОТ ДОМ

ЗА ДОМ

О ЧЁМ?

ПОД ДОМ

О ДОМ

НА ДОМ

ОТКУДА?

НАД ДОМ

ИЗ ДОМ

ОКОЛО ДОМ

С ЧЕМ?

ПЕРЕД ДОМ

С ДОМ